

نام:

به نام پروردگار زیبایی ها

دبستان غیردولتی جهان دانش فرشتگان

نام خانوادگی:

کلاس:

۱- درست یا نادرست بودن هر عبارت را مشخص کنید.

- | | | |
|----------------------------|------------------------------|---|
| <input type="radio"/> درست | <input type="radio"/> نادرست | اندازه قطر یک دایره بیشتر از شعاع آن دایره است. |
| <input type="radio"/> درست | <input type="radio"/> نادرست | مکعب از ۶ مربع درست شده است. |
| <input type="radio"/> درست | <input type="radio"/> نادرست | یک کیلومتر ۱۰۰۰ متر است. |
| <input type="radio"/> درست | <input type="radio"/> نادرست | برای کشیدن دایره از گونیا استفاده می کنیم. |
| <input type="radio"/> درست | <input type="radio"/> نادرست | به ۱/۴ نیم می گوئیم. |

۲- الگوهای رو به عقب زیر را ادامه دهید.

۱۲۵ - ۱۱۵ - ۱۰۵ - - -
 ۱۳۶ - ۱۲۳ - ۱۱۰ - - -

۳- جمع و تفریق زیر به واحد پول تومان است آنها را با واحد ریال بنویسید.

$۸۵ + ۳۰ = ۱۱۰$
 $۴۷۰ - ۲۵۵ = ۲۱۵$

$۸۴۰۵ =$

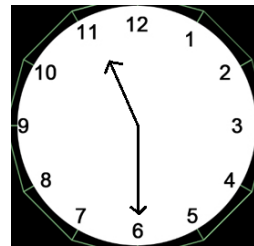
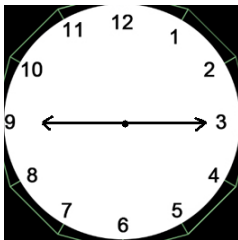
۴- باز شده عدد زیر را بنویسید.

حزوه سیتی

۵- کامل کنید.

۷۰۳۵ گرم یعنی کیلوگرم و گرم
 ۳۵۲ سانتی متر یعنی متر و سانتی متر
 عدد ۵۲۳۱ یعنی یکی ده تایی صدتایی هزارتایی

۶- زمان ساعت ها را با ربع و نیم بنویسید.

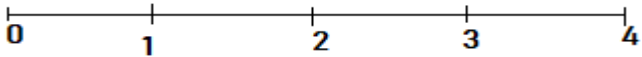


۷- یک دلار کشوری ۱۵۰۰ تومان ایران است ۳ دلار این کشور چند تومان ایران است؟

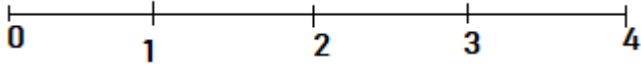
۸- عدد داخل دایره به کدام عدد نزدیکتر است؟ آن مربع را رنگ کنید.



۹- عددهای داده شده را روی محور نشان دهید.



$\frac{3}{5}$ واحد بعد از عدد یک



$\frac{1}{4}$ واحد مانده به عدد ۳

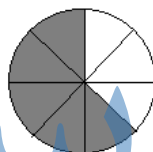
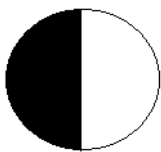
۱۰- یک زمین کشاورزی را نصف کردند. در نیمی از آن کاهو کاشتند و نیمی دیگر را نیز به ۳ قسمت مساوی تقسیم کردند. در یک قسمت از آن خیار کاشتند جاهای خالی را کامل کنید.

کاهو	خیار

..... قسمت از مساوی را خیار کاشتند.

..... قسمت از مساوی باقی مانده است.

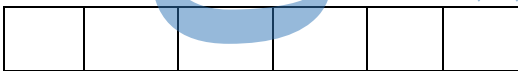
۱۱- کسری که هر دایره نشان می دهد را بنویسید و به همان اندازه از مستطیل رنگ کنید.




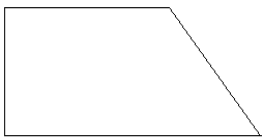
جزوه

$$\frac{3}{6} = \frac{6}{12}$$

۱۲- با کامل کردن شکل نشان دهید.



۱۳- زاویه راست را در شکل های زیر نشان دهید.



۱۴- علامت مناسب (<=>) بگذارید.

$$\frac{2}{2} \bigcirc \frac{3}{3}$$

$$\frac{1}{4} \bigcirc \frac{1}{5}$$

$$\frac{3}{6} \bigcirc \frac{4}{6}$$

۱۵- خواهر مانی کیک پخته و آن را به ۶ قسمت مساوی تقسیم کرده است $\frac{3}{6}$ آن را به مادر و $\frac{2}{6}$ کیک را به مانی داده کدام یک بیشتر خورده اند؟ چرا؟